



Özlüce
Rasim Özdenören
Anadolu İmam Hatip Lisesi
Öğrenci Kabul Sınavı



ÖRNEKTİR (A) (B) (C) (D)

DERSİN ADI	SORU SAYISI	TOPLAM SORU SAYISI	SINAV SÜRESİ
TÜRKÇE	15	65 ADET	110 DAKİKA
MATEMATİK	15		
FEN BİLGİSİ	15		
SOSYAL BİLGİLER	10		
YABANCI DİL (İNGİLİZCE)	5		
DİN KÜLTÜRÜ VE AHLAK BİLGİSİ	5		

AÇIKLAMALAR

Sınav öncesi aşağıdaki uyarıları mutlaka dikkate alınız.

- * Sınav süresince sözlük, hesap makinesi ve cep telefonu vs. kullanmak yasaktır.
- * Soruların çözümü için ayrıca boş kâğıt verilmeyecektir. Çözüm için kitapçığın içindeki boş alanları kullanınız.
- * Sadece soru kitapçığı üzerinde yapılan cevaplamalar geçersizdir. Cevapları mutlaka size verilen optik kâğıdına işaretleyiniz.
- * Cevaplarınızı siyah ve yumuşak uçlu bir kalemle işaretleyiniz.
- * İşaretleme yaparken kutucukların dışına taşımayınız.
- * Her sorunun bir tek doğru cevabı vardır. Birden fazla işaretleme yapmayınız.
- * 3 yanlış 1 doğruyu götürmektedir. Cevabından emin olmadığınız soruyu işaretlemeiniz.
- * Cevap için kullandığınız optik kâğıdı lütfen katlamayınız ve buruşturmayınız.
- * Sınav bitiminde cevap kâğıdını sınav görevlilerine teslim etmeyi unutmayınız.

ÖĞRENCİNİN

ADI :

SOYADI :

SINIFI :

OKULU :

TC NO :

BURSA/Nilüfer
Özlüce Mah. Erdiç Sok.
No:1

İletişim: 0224 413 48 00

ozlucerasimozdenaihl.meb.k12.tr



Özlüce Rasim Özdenören Anadolu İmam Hatip Lisesi Okula Kabul Sınavı



TÜRKÇE

1. “Düşünmek” sözcüğü aşağıdaki cümlelerin hangisinde “akıl etmek, ne olabileceğini önceden kestirmek” anlamında kullanılmıştır?

- A) Beni de düşünüp güzel bir hediye almış.
- B) Gazetecinin sorusuna cevap vermek için düşündü.
- C) Yazın, işlerin azalacağını düşünmeliydin.
- D) İhtiyar adam gençlik yıllarını düşünüyordu.

2. Ya () senin kedin de mi kaybolmuş () Evde her yere baktın mı () Birlikte çıkıp etrafta arayalım şimdi ()

Bu metinde ayrıca gösterilen yerlere sırasıyla aşağıdaki noktalama işaretlerinden hangileri getirilmelidir?

- A) (...)(!)(.)(!)
- B) (...)(?)(?)(!)
- C) (,)(?)(?)(.)
- D) (!)(?)(?)(.)

3. Sevilen bir insandı. Giyimiyle, ağarmaya durmuş saçıyla, ilerlemiş yaşıyla, en çok da sesiyle-sözüyle karşısındaki herkese güven duygusu verirdi. İnsanların duygularını yüzlerinden okurdu. Yaşadıklarından dersler çıkarmış, görmüş geçirmiş biriydi. Pek az kişide rastlanabilecek bir ikna gücüne sahipti. Yerinde ve etkili konuşurdu.

Bu parçada anlatılan kişi ile ilgili aşağıdakilerin hangisine değinilmemiştir?

- A) Deneyimine
- B) Güvenilirliğine
- C) İnanıncılığına
- D) Yardımseverliğine

4. 1. Kitapların masasının üzerine yığıp bizi de masanın başına toplardı.
2. Biz de her kitabı inceleyip beğendiğimiz bir tanesini ödünç alırdık.
3. Öğretmenimiz haftada bir gün elinde kitap dolu çantalarla sınıfa girerdi.
4. Sonra bize, istediğimiz kitapları alıp inceleyebileceğimizi söylerdi.

Numaralanmış cümleler olay akışına göre nasıl sıralanmalıdır?

- A) 1 – 4 – 3 – 2
- B) 3 – 1 – 4 – 2
- C) 1 – 4 – 2 – 3
- D) 3 – 1 – 2 – 4



Özlüce Rasim Özdenören Anadolu İmam Hatip Lisesi Okula Kabul Sınavı

5. Her iklimde, her kıtada
Kurtlara kuşlara selam,
Selam bütün bayraklara,
Bütün insanlara selam.
Tarık Orhan

Bu şiirin ana duygusu aşağıdakilerden hangisidir?

- A) Kardeşlik
B) Yalnızlık
C) Merak
D) Özlem

6. YÖNETİCİ SEKRETERİ ARANIYOR

Şirketimize aşağıdaki şartlara uygun yönetici sekreteri alınacaktır.

- Almanca bilmek
- Bilgisayar kullanabilmek
- Üniversite mezunu olmak
- Büro yönetimi veya sekreterlik bölümünden mezun olmak

Bu ilana göre, aşağıda özellikleri verilen kişilerden hangisi işe alınmalıdır?

- A) Hayri
*Yabancı dili: İngilizce
*Bilgisayar kullanabiliyor.
*Eğitim durumu: Kocatepe Üniversitesi
*Sekreterlik Bölümü
- B) Leyla
*Yabancı dili: Almanca ve Çince
*Bilgisayar kullanabiliyor.
*Eğitim durumu: Ticaret Meslek Lisesi
*Büro Yönetimi Bölümü
- C) Turan
*Yabancı dili: Almanca
*Bilgisayar kullanabiliyor.
*Eğitim durumu: Hacettepe Üniversitesi
*Büro Yönetimi Bölümü
- D) İpek
*Yabancı dili: Almanca
*Bilgisayar kullanabiliyor.
*Eğitim durumu: Gazi Üniversitesi
*Halka İlişkiler Bölümü



Özlüce Rasim Özdenören Anadolu İmam Hatip Lisesi Okula Kabul Sınavı

7. Burak ile Yasin “öğleden sonra” film izlemek istemektedirler. Burak “komedi ve macera”, Yasin ise “korku ve komedi” filmlerinden hoşlanmaktadır. Tabloda filmlerin günü, saati ve türü belirtilmiştir.

FİLM PROGRAMI		
Saat	Cumartesi	Pazar
09:00-11:00		Kaçak (Macera)
10:00-12:00	Kediler (Komedi)	
14:00-16:00		Şanslı (Komedi)
15:00-17:00	Sis (Korku)	

Hoşlandıkları film türleri düşünüldüğünde bu tabloya göre Burak ve Yasin “birlikte” hangi filme gidebilirler?

- A) Kediler
B) Sis
C) Kaçak
D) Şanslı

8.



Bu karikatürde verilmek istenen mesaj aşağıdakilerden hangisidir?

- A) Spor yapmalı ve yeterince güneş ışığı almalısın.
B) Besin gruplarından yeteri kadar tüketirsen sağlıklı büyürsün.
C) Beden ve ruh sağlığın için oyun oynamalısın.
D) Süt ve süt ürünleriyle daha çok beslenmelisin.

9. Ahmet, bir gün yolda rastladığı yardıma muhtaç birine para verir. Daha on adım atmadan yardımı alan kişi peşinden koşar ve:

— Bana ihtiyacım olandan daha çok para verdiniz, der.

Ahmet cebinden bir miktar para daha çıkarıp adama uzatır.

Adam elindeki göstererek:

— Yanıldınız beyefendi, benim bu kadar paraya ihtiyacım yok.

Ahmet gülerek:

— Tamam der. Bu ikincisini de dürüstlüğü için veriyorum.

Bu metinde asıl anlatılmak istenen, aşağıdakilerden hangisidir?

- A) Yapılan yardımın gizli kalması gerektiği
B) Yardıma muhtaç insanlara yardım edilmesi gerektiği
C) Yardımda bulunan kişiye teşekkür edilmesi gerektiği
D) Doğruluktan ayrılmayan insanların ödüllendirilmesi gerektiği



Özlüce Rasim Özdenören Anadolu İmam Hatip Lisesi Okula Kabul Sınavı

10. Bazı sözler vardır ki önündeki duvarlar ne kadar yüksek olursa olsun, engeller ne kadar aşılmaz olursa olsun onları aşmayı başarabilir. Karşısındaki dünyanın en sert, en katı insanı da olsa onu yumuşatmayı bilir. Böyledir sözler. Kafasına koyduğunu yapar, düşündüğünü hissettirir insana. Çok etkilidir.

Yukarıda verilen metnin başlığı aşağıdakilerden hangisi olabilir?

- A) Sözün Kırıcılığı B) Sözün Görevi
C) Sözün Gücü D) Sözün Anlamı

12. Dergi, 2009 yılının Mart ayında başladı yolculuğuna. İyi kitapların okurlara tanıtılması parola-sıyla çıktı yola. Yayınevlerinden, eleştirenlerden, okurlardan aldığı destekle başarılı oldu. Ayda bir çıkarılan bu dergiyi okurlar merakla bekliyorlar artık. Ayrıca genç şair ve yazarların eserlerine yer vererek onların da tanınmasını sağladı.

Bu metinde söz edilen dergiyle ilgili aşağıdakilerden hangisine değinilmemiştir?

- A) Hangi yaş grubu için çıkarıldığına
B) Başarısına katkı sağlayanlara
C) Ne zaman yayımlanmaya başladığına
D) Amacının ne olduğuna

11. Aşağıdaki cümlelerin hangisinde zıt anlamlı kelimeler bir arada kullanılmıştır?

- A) Günlerdir beklediğim haber sonunda geldi.
B) İsrافی önlemenin en önemli yolu tasarruftur.
C) Sert sözlerinle etrafındakileri kırıyorsun.
D) Sesini duyurabilmek için olanca gücüyle bağırdı.



Özlüce Rasim Özdenören Anadolu İmam Hatip Lisesi Okula Kabul Sınavı



13.



Korkmak

Gereksiz uzatmak.

Telaşlanmak

Sinirlenmek, kızmak

Okul giriş kat merdivenine yukarıdaki deyimler yazılmıştır. Bu deyimlerin anlamları da surat ifadeleri ile belirtilmiştir.

Buna göre basamakta yazan deyimlerle, anlamlarının eşleşmesi aşağıdakilerden hangisi gibi olur?

	1. Basamak	2. Basamak	3. Basamak	4. Basamak
A)				
B)				
C)				
D)				

14. Aşağıdaki kavram haritasında '-de' ekinin yazımıyla ilgili cümleler verilmiştir. Doğru cevabı takip ederek çıkışa ulaşınız.

Ödevimi çantamda bulamadım, acaba nereye koydum?

Doğru

Yanlış

Bu resim çerçeve de çok güzel durmuş.

Bu resim çerçeve de çok güzel durmuş.

Doğru

Yanlış

Doğru

Yanlış

1. Çıkış

2. Çıkış

3. Çıkış

4. Çıkış

Ulaştığınız çıkışın numarasını işaretleyiniz.

A) 1. çıkış

B) 2. çıkış

C) 3. çıkış

D) 4. çıkış

15. Aşağıdaki sözcük gruplarını uygun cümlelerle eşleştirdiğimizde aşağıdakilerden hangisi olur?

● Yanına gidip konuşmak

■ Gezmek

▲ Gözlerin görmediği durumlarda başka duyu organlarıyla algılamak

1. Topkapı Sarayı'nı gördün mü?

2. Körler özel bir sistemle parmaklarıyla görürler.

3. Bugün mutlaka müdürü görmeliyim.

A) 1-▲, 2-■, 3-●

B) 1-■, 2-●, 3-▲

C) 1-●, 2-■, 3-▲

D) 1-■, 2-▲, 3-●



Özlüce Rasim Özdenören Anadolu İmam Hatip Lisesi Okula Kabul Sınavı



MATEMATİK

16. Tabloda bir mağazadaki ürünlerin ilk fiyatları veriliyor. Daha sonra bu mağaza, her ürünün ilk fiyatını **en yakın onluğa** yuvarlayarak yeni satış fiyatlarını belirliyor.

Ürünler	İlk Fiyatları
Tost Makinesi	1455
Mutfak Robotu	6499
Kahve Makinesi	4324
Çay Makinesi	2581

Feyza, mağazadaki ürünlerin yeni satış fiyatı ile ilk fiyatını kıyaslayıp fiyatı düşen iki ürünü satın alıyor.

Buna göre Feyza, hangi iki ürünü satın almıştır?

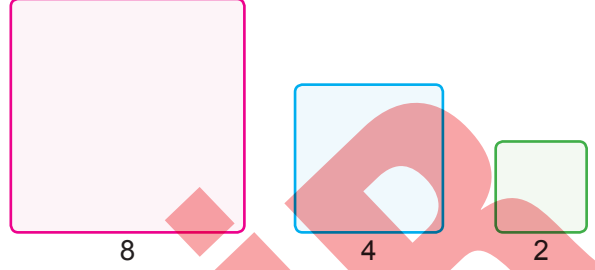
- A) Tost Makinesi ve Kahve Makinesi
 B) Mutfak Robotu ve Kahve Makinesi
 C) Mutfak Robotu ve Çay Makinesi
 D) Kahve Makinesi ve Çay Makinesi

17. Berk 5 yıl önce 1 yaşındaydı.

Berk ile babasının bugünkü yaşları toplamı 45 olduğuna göre Berk'in babası 3 yıl önce kaç yaşındaydı?

- A) 36 B) 37 C) 39 D) 42

18. Aşağıda verilen 8×8 'lik, 4×4 'lük ve 2×2 'lik karelerden elimizde yeterli sayıda vardır.



Buna göre bu karelerin her birinden en az birer tane kullanarak oluşturulabilecek en küçük boyutlu karede kullanılan kare sayısı en az kaçtır?

- A) 8 B) 9 C) 10 D) 11

19. Yandaki bölme işleminde verilmeyen rakamların yerine \blacktriangle \blacksquare \blackstar sembolleri kullanılmıştır.

$$\begin{array}{r} 54 \blacksquare \blacktriangle 4 \\ 1 \blackstar \\ \hline 8 \end{array}$$

Buna göre $\blacktriangle + \blacksquare + \blackstar$ işleminin sonucu kaçtır?

- A) 5 B) 8 C) 13 D) 15

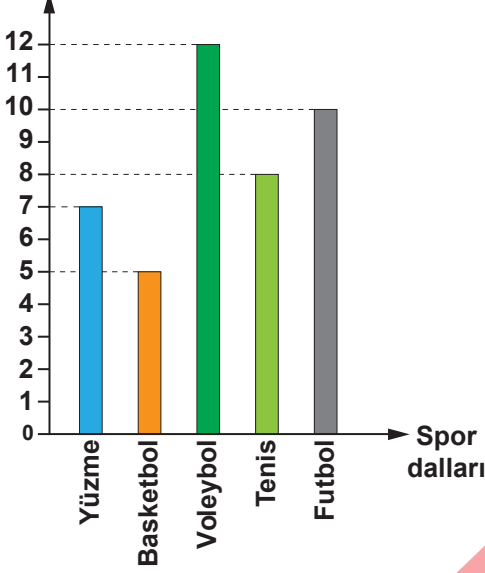


Özlüce Rasim Özdenören Anadolu
İmam Hatip Lisesi
Okula Kabul Sınavı



20. Bir ilçede açılan yaz spor okulunda spor dallarına göre kayıt yaptıran öğrencilerin sayıları grafikte gösterilmiştir.

Grafik: Yaz Okulunda Dallarına Göre Başvuru Sayıları Öğrenci sayıları



Bir spor dalının açılabilmesi için en az 12 öğrenci olması gerekmektedir.

Buna göre, grafikteki bütün spor dallarının açılabilmesi için en az kaç öğrenci daha kayıt yaptırmalıdır?

- A) 16 B) 18 C) 20 D) 25

21. 2 metre uzunluğundaki bir tahta çubuğun $\frac{2}{5}$ 'si kesilip atılıyor.

Kalan çubuk iki eş parçaya bölündüğünde parçalardan birinin uzunluğu kaç santimetre olur?

- A) 120 B) 100 C) 80 D) 60

22. Bir parkta inek, kedi ve kangurulardan oluşan 15 tane hayvan vardır.

Kesin olarak 10 tanesinin inek olmadığı ve 8 tanesinin de kedi olmadığı bilindiğine göre, bu parkta kaç tane kanguru vardır?

- A) 2 B) 3 C) 4 D) 10

23. Bir kitabın sayfaları 1,2,3,4,5... şeklinde numaralandırılmıştır.

Numaralandırmada 5 rakamı 16 defa kullanıldığına göre, bu kitabın sayfa sayısı en fazla kaç olabilir?

- A) 49 B) 64 C) 66 D) 74



Özlüce Rasim Özdenören Anadolu İmam Hatip Lisesi Okula Kabul Sınavı



24.

●	■	▲	15
●	●	●	12
■	▲	▲	16

Yukarıda verilen tabloda her sembol farklı bir sayıyı göstermektedir. Tabloda her satırın yanında yazan sayı o sıranın toplamını vermektedir.

Buna göre ■ sembolü hangi sayıyı göstermektedir?

- A) 6 B) 5 C) 4 D) 3

25. Tavşan Pıtırıcık'ın 20 adet havucu vardır. Her gün iki havuç yiyen Pıtırıcık 12. havucu Çarşamba günü yediğine göre, havuçları yemeye hangi gün başlamıştır?

- A) Salı B) Çarşamba
C) Perşembe D) Cuma

26. Dört kardeş toplam 11 kurabiye yemiştir. Her biri en az bir kurabiye yemiş ama herhangi ikisi eşit sayıda kurabiye yememiştir. Üç tanesi toplamda 9 kurabiye yemiştir ve bir tanesi de kesinlikle 3 kurabiye yemiştir.

En fazla kurabiye yiyen kardeşin, yediği kurabiye sayısı kaçtır?

- A) 3 B) 4 C) 5 D) 6

27. Duygu 5 çeşit yemeği yalnızca iki gözü olan bir ocakta pişirmek istiyor. Yemeklerin pişme süreleri 40 dakika, 15 dakika, 35 dakika, 10 dakika ve 45 dakikadır.

Duygu 5 çeşit yemeği en kısa kaç dakikada pişirebilir? (Her yemeği ocaktan ancak piştikten sonra kaldırabilir.)

- A) 60 dk B) 70 dk
C) 75 dk D) 80 dk



Özlüce Rasim Özdenören Anadolu
İmam Hatip Lisesi
Okula Kabul Sınavı



28. Murat 5'lik, 10'luk ve 25'lik paketler halinde satılan balonlardan almak istemektedir. Her bir paketten en az bir tane almak şartıyla 70 balon almak isteyen Murat en az kaç paket satın almalıdır?

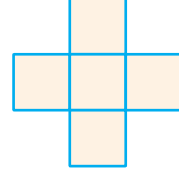
- A) 4 B) 5 C) 6 D) 7

29. Sihirli bir bahçede yetişen sihirli ağaçlar vardır. Her ağaçta 6 armut 3 elma ya da 8 armut 4 elma vardır.

Bahçede toplam 25 elma var ise kaç armut vardır?

- A) 50 B) 55 C) 60 D) 65

30.



3, 5, 7, 8 ve 9 sayıları satır ve sütundaki sayıların toplamı eşit olacak şekilde yandaki karelere yazılıyor.

Merkezdeki kareye hangi sayı yazılmalıdır?

- A) 3 B) 5 C) 7 D) 8

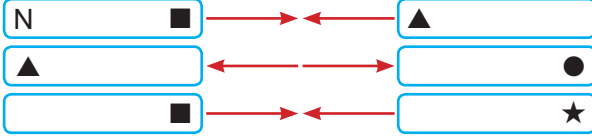


Özlüce Rasim Özdenören Anadolu İmam Hatip Lisesi Okula Kabul Sınavı



FEN BİLİMLERİ

31. Aşağıdaki mıknatısların birbirini itme ve çekme durumları verilmiştir.



Buna göre gösterilen kutuplar hangi seçenekte doğru olarak verilmiştir?

- | | | | | |
|----|---|---|---|---|
| | ■ | ▲ | ● | ★ |
| A) | S | N | S | S |
| B) | S | N | N | S |
| C) | N | S | S | N |
| D) | N | S | N | S |

32. Fen bilimleri öğretmeni öğrencilerin besinler konusunu ne kadar anladıklarını öğrenmek için aşağıdaki tabloyu hazırlamıştır. Öğrencilerinden Elif bu tabloya aşağıdaki gibi doldurmuştur.

No	Bilgiler	D/Y
1	Su ihtiyacımızı sadece içeceklerden karşılarız.	D
2	Yağlar vücudumuzda birinci dereceden enerji ihtiyacını karşılar.	Y
3	Proteinlerin vücutta yapıcı ve onarıcı etkisi vardır.	D
4	Vitaminler; kemik gelişimi, bağışıklığın güçlenmesi, büyüme ve gelişme de etkilidir.	D
5	Vücudumuz için gereken enerji yağlardan sonra karbonhidratlardan karşılanır.	D
6	Mineraller; kemiklerin güçlenmesine, vücudun gelişmesine yardımcı olur.	Y

Doldurulan tabloya baktığımızda Elif'in bazı konuları tam olarak anlamadığı görülmüştür.

Buna göre Elif hangi soruları yanlış cevaplamıştır?

- A) 1-2 B) 2-5 C) 1-5 D) 5-6


33. Aşağıda bazı maddelerin bulunduğu halden başka bir hale geçmeleri gösterilmiştir.

- I. Çamaşırların kuruması
- II. Hastalanınca başımıza ıslak bez konulması
- III. Denizden çıkınca üşmemiz
- IV. Buzdolabından çıkan su şişesinin etrafında su damlacıklar oluşması.

Buna göre hangisi diğerlerine göre farklıdır?

- A) I B) II C) III D) IV

34.



Yukarıda bir beher, su ve 3 özdeş demir bilyenin kütlesi ölçülmüştür.

Yapılan ölçümlere göre aşağıdaki ifadelerin hangisi yanlıştır?

- A) Dara 300 gr'dır.
- B) Suyun kütlesi 150 gramdır.
- C) Bir demir bilyenin kütlesi 90 gramdır.
- D) Kabın darasının kütlesi su ve demir bilyelerin kütleleri toplamından fazladır.

35. Aşağıdaki karışımlardan hangisinin ayırma yöntemi yanlış verilmiştir?

- A) Kobalt-kum karışımı: Mıknatısla ayırma
- B) Nohut-un: Eleme
- C) Kum-su: Süzme
- D) Çakıl-su: Eleme



Özlüce Rasim Özdenören Anadolu İmam Hatip Lisesi Okula Kabul Sınavı



36. Aşağıdaki tabloda fosillerle ilgili bazı bilgiler verilmiştir.

Bilgi	D	Y
Hayvan kalıntıları fosilleşirken bitki kalıntıları fosilleşemez.		
Ölen her canlı fosilleşemez.		
En üstteki kayalık tabakasında bulunan fosiller alt tabakalardaki fosillere göre daha eskidir.		
Fosilleşmenin oluşabilmesi için öncelikle canlı kalıntısının havayla temasının hemen kesilmesi gerekir.		

Buna göre tablonun doğru doldurmuş şekli aşağıdakilerden hangisidir?

A)

D	Y
+	
+	
	+
+	

B)

D	Y
	+
+	
	+
+	

C)

D	Y
	+
+	
+	
	+

D)

D	Y
	+
	+
	+
+	

37. ● Sesin şiddetini artırma veya uzaklara duyurmak için kullanılan alet
● İnsan kulağının işitemeyeceği sesleri vücuda göndererek organları görüntüleyen alet
● Kalp atışını ve Akciğerlerimizden gelen havanın çıkardığı sesin dinlenmesini sağlayan alet

Aşağıda verilen sesle ilgili kavramlardan hangisinin tanımı yukarıda verilmemiştir?

- A) Telefon
B) Stetoskop
C) Ultrason cihazı
D) Hoparlör

38. I. Karbonhidratlar
II. Vitaminler
III. Yağlar

Yukarıdaki besinlerden hangisi veya hangileri vücut için gerekli olan enerjiyi sağlar?

- A) I - III
B) Yalnız III
C) Yalnız I
D) II - III

39. Pelin bir gün annesi ile alışverişe çıktığında öğretmenin Fen Bilimleri dersinde besinleri satın alırken ve tüketirken nelere dikkat edilmesi gerektiğini anlattığından bahsetmiştir.

Buna göre, aşağıdakilerden hangisi Pelin'in öğretmenin anlattıklarından biridir?

- A) Paketi açılmış olsa da besinleri satın alabiliriz.
B) Dondurulmuş gıdalardan çözülmüş olanları tekrar dondurmamız.
C) Son kullanma tarihi geçmiş olan ürünleri tüketebiliriz.
D) Taze ve doğal besinleri tüketmeliyiz.



Özlüce Rasim Özdenören Anadolu
İmam Hatip Lisesi
Okula Kabul Sınavı




40. Şekillerde kuvvetin cisimler üzerindeki etkilerine örnekler veriliyor.



Duran topa vuruyor.



Odun parçasını kırıyor.



Bisikletin frenine basarak duruyor.

Bu örnekler bakılarak kuvvetin etkileri ile ilgili aşağıdakilerden hangisi söylenemez?

- A) Cisimlerin şeklini değiştirebilir.
B) Uygulandığı her cismi durdurur.
C) Duran cisimleri hareket ettirebilir.
D) Cisimleri yavaşlatabilir.
41. Aşağıdakilerden hangisi ışık kirliliğinin sonuçlarından birisi değildir?
- A) Caretta cerettaların üreme faaliyetlerinin etkilenmesi
B) Gök bilimcilerinin gözlemlerinin olumsuz etkilenmesi
C) Göçmen kuşlarının yönlerini bulmasının kolaylaşması
D) Mercanların strese girerek beyazlaşması

42. Yeryüzündeki bir noktadan, bir günün belli saatlerinde Güneş'e bakıldığında Güneş'in konumu şekildeki gibi oluyor.



Saat 10.00

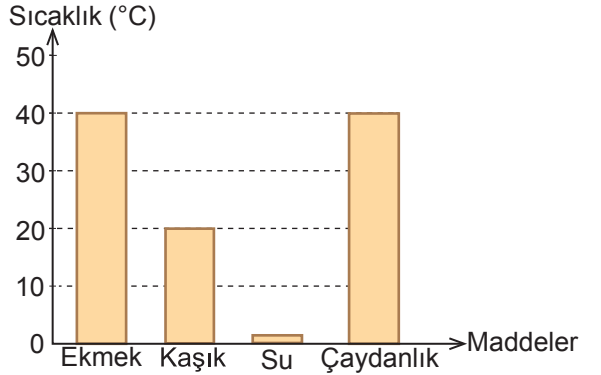
Saat 12.00

Saat 17.00

Yeryüzüne göre, Güneş'in konumunun değişmesi aşağıdakilerden hangisi ile açıklanır?

- A) Dünya'nın Güneş etrafında dolanması
B) Dünya'nın kendi eksenini etrafında dönmesi
C) Dünya'nın Güneş etrafında dolanımını bir yılda tamamlaması
D) Bir yılın yaklaşık 365 gün olması

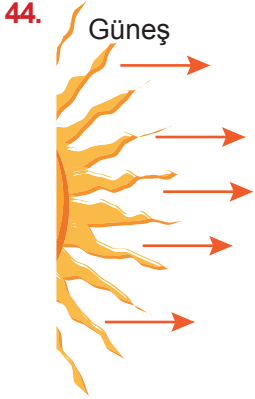
43. Bir öğrenci termometre kullanarak kendi vücut sıcaklığını 36 °C olarak ölçüyor. Aynı termometre ile farklı maddelerin sıcaklıklarını da ölçüp sonuçlarını grafikte aşağıdaki gibi gösteriyor.



Buna göre öğrenci, grafikte gösterilen hangi maddeleri eline aldığı maddenin sıcaklığı artar?

- A) Kaşık ve su
B) Ekmek ve kaşık
C) Su ve çaydanlık
D) Ekmek ve çaydanlık

Özlüce Rasim Özdenören Anadolu İmam Hatip Lisesi Okula Kabul Sınavı



A noktasında her zaman gündüz yaşanır.

B noktasında her zaman gece yaşanır.

Dünya'nın kendi eksenini etrafında dönmesi sonucunda A'da gece olduğunda B'de gündüz olur.

A noktasında şekle göre şu an gündüz yaşanmaktadır.

A ve B noktaları gün boyunca Güneş'i farklı konumlarda görecektir.

Öğretmeni Emir'e şekildeki A ve B noktalarına göre değişik bilgilerin yazılı olduğu kağıdı vermiştir. Emir'den bu kağıtta doğru olanlara gülen surat 😊, yanlış olanlara asık surat ☹️ yapmasını istemiştir.

Buna göre Emir verilen bilgilere doğru surat ifadelerini koyduğuna göre yaptığı bu sıralama aşağıdakilerden hangisi gibidir?

- A) ☹️ ☹️ ☹️ ☹️ ☹️
- B) ☹️ ☹️ ☹️ ☹️ ☹️
- C) 😊 ☹️ ☹️ ☹️ ☹️
- D) ☹️ ☹️ ☹️ ☹️ ☹️

45. Gaz Lambası
 Ampul
 Florasan Lamba
 Meşale

Verilen aydınlatma araçlarının geçmişten başlayarak icat olma sırası aşağıdakilerden hangisidir?

- A) B)
- C) D)



Özlüce Rasim Özdenören Anadolu İmam Hatip Lisesi Okula Kabul Sınavı




SOSYAL BİLGİLER

46.



(1)



●



(2)



●



(3)



●

Yukarıda verilen kartlarla, kullanıldıkları yerin eşlemesi hangisidir?

- A) 1- ● 2- ● 3- ●
 B) 1- ● 2- ● 3- ●
 C) 1- ● 2- ● 3- ●
 D) 1- ● 2- ● 3- ●

A KİTAPÇIĞI

47.



19 Mayıs 1919 tarihinden başlayarak Mustafa Kemal Atatürk'ün toplantı düzenlediği illerin kronolojik sıralaması nasıldır?

- A) ● ● ■ ★
 B) ■ ★ ● ●
 C) ● ● ★ ■
 D) ● ■ ★ ●

48. I. Oyun iki takım arasında, bir top ve avuç içi büyüklüğünde yassı kiremit parçalarıyla oynanır. Kiremit parçaları üst üste dizilir ve kiremitler topla vurulup ebelenmeden tekrar üst üste dizilmeye çalışılır.
 II. Oyun koyun, keçi ve danaların ön dizlerinin bulunan bir kemik ile oynanır. Bu oyunda yere çizilen bir daire içine kemikler dizilir ve oyuncular, ellerindeki kemiklerle daire içindeki kemikleri dışarı çıkarmaya çalışır.
 III. Bu oyunda ise bir ebe seçilir. Ebe gözlerini kapatıp yönünü duvara döner. Yüksek sesle saymaya başlar. Bu sırada diğer oyuncular saklanır. Ebe gözünü açınca saklanan oyuncular sobelemeye çalışır.
 IV. Erzurum ilinde yoğun ilgi gösterilen bu oyun at üzerinde oynanır.

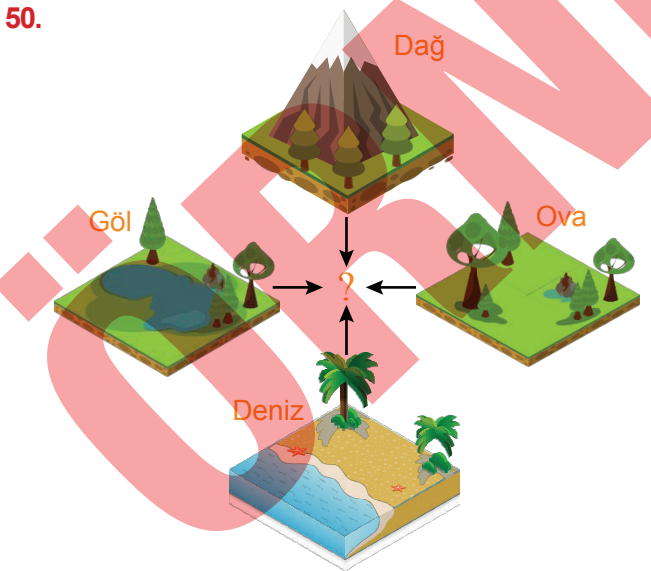
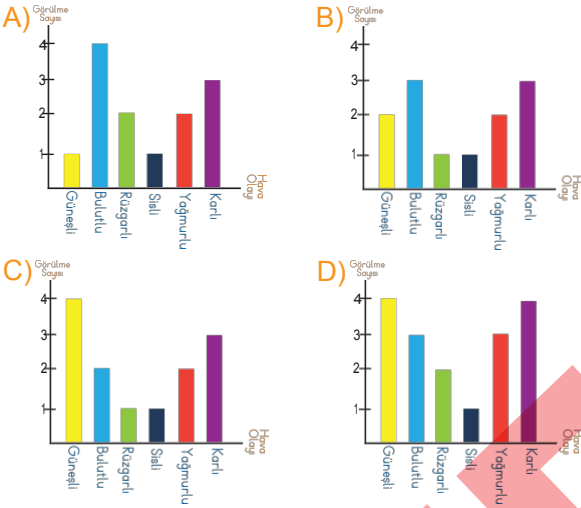
Yukarıda numaralandırılarak verilen oyunlar hangi seçenekte doğru verilmiştir?

	I	II	III	IV
A)	Mendil Kapmaca	Misket	Cirit	Saklambaç
B)	Dalye	Cirit	Seksek	Körebe
C)	Topaç	Aşık	Köşe Kapmaca	Körebe
D)	Dalye	Aşık	Saklambaç	Cirit

49.

Görülme Hava Sayısı Olayı	Güneşli	Bulutlu	Rüzgarlı	Sisli	Yağmurlu	Karlı
	4	2	1	1	2	3

Yukarıdaki tabloyu grafiğe aktardığımızda aşağıdakilerden hangisine ulaşırız?



Yukarıdaki kavram haritasında “?” olan yere hangi kavram getirilmelidir?

- A) Karalar B) Beşeri Unsurlar
C) Yeryüzü şekilleri D) Bölgeler

51. İki kardeşin kimlik belgeleri karşılaştırılıyor.

Karşılaştırma yapılmadan önce Ayşe, Selim, Tarkan ve Selma bu iki kimlik belgesi hakkında aşağıdaki gibi tahminlerde bulunuyor.

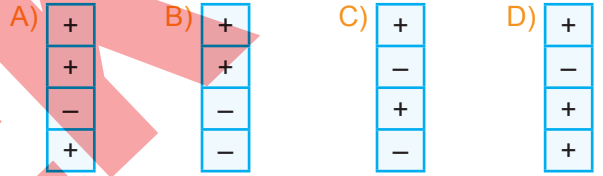
Ayşe: İki kardeşin kimlik belgelerinde doğum tarihleri farklıdır.

Selim: T.C. Kimlik numaraları iki kardeşin kimlik belgesinde farklıdır.

Tarkan: Soyadları iki kardeşin kimlik belgesinde farklıdır.

Sema: İki kardeşin kimlik belgesinde doğum yerleri kesinlikle aynıdır.

Yapılan tahminlerin doğru (+), yanlış (-) grafiği aşağıdakilerden hangisi gibi olabilir?



52.



Yukarıdaki numaralandırılmış resimlerden hangisi kültürümüze ait değildir?

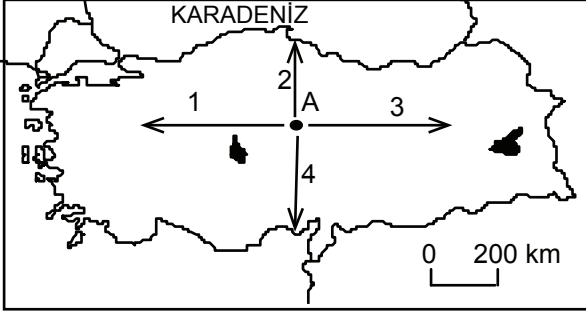
- A) 1 B) 2 C) 3 D) 4



Özlüce Rasim Özdenören Anadolu
İmam Hatip Lisesi
Okula Kabul Sınavı



53.



Türkiye haritasındaki A noktasından doğuya doğru gitmek için kaç numaralı ok yönünde hareket edilmelidir?

- A) 1 B) 2 C) 3 D) 4

54.

- Radyo ve televizyonun sesi, başkalarını rahatsız etmeyecek şekilde açılmalı
- Derslerde, sinemada ve tiyatro gibi yerlerde cep telefonu kullanılmamalı
- Islak elle elektrikli aletlere dokunulmamalı

Verilenlere en uygun başlık aşağıdakilerden hangisi olur?

- A) Teknolojinin Gelişimi
B) Teknolojik Ürünlerin Yararları
C) Çevremizdeki Teknoloji Ürünleri
D) Teknolojik Ürünleri Doğru Kullanma

55. Aşağıda Ankara'da yaşayan bir ailenin aylık bütçesi verilmiştir:


Harcama Konusu	Tutarı (TL)
Mutfak Masrafı	650 TL
Ev Kirası	800 TL
Ulaşım	250 TL
Faturalar	325 TL
Giyim	250 TL
Eğitim	150 TL
Eğlence	200 TL
Gazete + Dergi	100 TL
TOPLAM GİDER	2725 TL
AYLIK GELİR	3850 TL

Bütçeye bakarak aşağıdakilerden hangisi söylenemez?

- A) Aylık giderde en büyük pay kiranındır.
B) Aile, temel ihtiyaçlarının dışında da para harcamıştır.
C) Aile 1.000 liranın üzerinde tasarruf yapmıştır.
D) Eğitime eğlenceden daha fazla pay ayrılmıştır.

İNGİLİZCE

56.



Diyalog için en uygun
seçenek hangisidir?

Muhammad:

Oscar: It is in front of the box.

- A) What is the apple?
- B) Where is the apple?
- C) How is the apple?
- D) When is the apple?

57.



Boşluklara gelmesi gereken
kelimeler hangi seçenekte
verilmiştir?

I - - - - up at eight o'clock. I - - - -
breakfast and - - - - to school in
the mornings.

- A) stand / read / sleep
- B) eat / study / brush
- C) get / have / go
- D) wake / play / listen

58. Parçaya göre aşağıdakilerden hangisi
doğrudur?

Lisa: Would you like some chicken?

Tom: No thanks. I'm full, but I feel thirsty. Lisa:
Do you want some lemonade?

Tom: I like Lemonade, but I want some water,
please.

Lisa: Ok.

- A) Lisa wants water.
- B) Tom is hungry.
- C) Tom doesn't like lemonade.
- D) Tom needs some water

59. Parçaya göre soru cümlesini tamamlayan
doğru seçeneği seçiniz.

Oliver: Look Harry. It is raining.

Harry: I don't have my umbrella.?

Oliver: Here you are.

Harry: Thanks.

- A) May I borrow yours?
- B) What is the weather like?
- C) Can I go out?
- D) What is your job?

60. Tanıma göre George aşağıdakilerden
hangisidir?

George has brown hair. He hasn't got moustache.
He has beard.

A)



B)



C)



D)



DİN KÜLTÜRÜ VE AHLAK BİLGİSİ

61. Hz. Muhammed'in (sav) gençlik yıllarında, Kabe'nin duvarlarında çatlaklar oluşmuştu. Mekkeliler toplanarak Kabe'yi yenilemeye karar vermişlerdi. Duvarlar temele kadar sökülerek tekrar örülmeye başlanmış; Hacerü'l-esved isimli siyah taşta gelince kabileler anlaşmazlığa düşmüşlerdi. Bir Mekke'li Kabe'nin avlusundan içeri girecek ilk kişinin hakem seçilmesini istemiş, Hz. Muhammed'in(sav) içeriye girmesiyle herkes "onun vereceği karara razıyız" demişti.

Bu söz Hz. Muhammed'in (sav) hangi özelliği dolayısıyla söylenmiştir?

- A) Yetim olması
B) Saygılı olması
C) Vefalı olması
D) Adaletli olması
62. "Allah'ım İbrahim peygambere ve ailesine merhamet ettiğin gibi, Hz. Muhammed'e ve aile fertlerine de merhamet et. Şüphesiz ki Sen şanı yüce ve övülmeye layık olansın" anlamındaki sallı-bârik dualarına duaları da denir.

Yukarıdaki boşluğa hangi dini ifade getirilmiştir?

- A) Sübhanallah
B) Salavat
C) Estağfirullah
D) Tekbir
63. Aşağıdaki ayet ve hadislerin hangisinde manevî temizlikten bahsedilmektedir?

- A) "Ey iman edenler! Namaz kılmaya kalktığınız zaman yüzlerinizi, dirseklere kadar ellerinizi yıkayın; başlarınızı mesh edip topuklara kadar ayaklarınızı da (yıkayın)"
B) "Şunu iyi bilin ki Allah (cc); tövbe edenleri de sever temizlenenleri de sever."
C) "Cennetin anahtarı namaz, namazın anahtarı da temizliktir, abdesttir."
D) "Laneti gerektiren iki şeyden sakınınız. O iki şey; insanların gelip geçtikleri yerleri ve gölgelendikleri yerleri kirletmektir."

64.




- (1) Namaz kılabilmemiz için yapmamız gereken en temel görev abdest almaktır.
(2) Abdest alırken önce eûzü besmele çekilir.
(3) Eller yıkanır, ağza ve burna üçer defa su verilir.
(4) Başın dörtte biri mesh edilir.
(5) Yüz yıkanır, kollar dirseklerle birlikte yıkanır.
(6) Kulaklar temizlenip boyun mesh edilir.
(7) Sağ ve sol ayak yıkanır.

Abdestin alınışının anlatıldığı yukarıdaki cümlelerde hangi iki şıkkın yeri değiştirildiğinde sıralama doğru olmuş olur?

- A) 1-2
B) 3-4
C) 4-5
D) 5-6

65.



Bulmacada verilen kavramlar aşağıdaki koulardan hangisiyle ilgilidir?

- A) İslam'ın şartları
B) İmanın şartları
C) Konuşma kuralları
D) Günlük dildeki dinî ifadeler



**BAŞARILAR
DİLERİZ.**